

Challenge mathématique 2024 – 2025


Manche 3 – Niveau 1 (problème 1 jour 3)

Le train

Un train part avec 48 voyageurs. Il s'arrête, et 22 personnes descendent du train. Voici les personnes qui montent ensuite dans le train :



Combien y a-t-il maintenant de voyageurs dans le train ?



Challenge mathématique 2024 – 2025


Manche 3 – Niveau 1 (problème 2 jour 3)

Les rangées de salades

Dans le jardin, il y a 24 salades.
Sur chaque rangée, il y a le même nombre de salades.




Combien a-t-on planté de rangées de salades ?



Challenge mathématique 2024 – 2025

Manche 3 – Niveau 1



Bonus n°2 : production d'énoncé

